



۱۳۷۰

باسمه تعالی

موسسه فرهنگی آموزشی پیوند ادب
پیش دبستان و دبستان (هوشمند) دخترانه پیوندنام و نام خانوادگی :
کلاس : ورودی سوم به چهارم

سوالات گذر از تابستان



۱- مغازه‌دار نوعی کیک را بسته ای ۳۰۰ ریال می‌خرد و ۳۶۰ ریال می‌فروشد .

تعداد بسته های کیک	۱	۲	۳	۴	۵	۶	۷	۸	۹
سود فروش کیک ها									

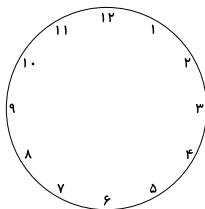
الف (این مغازه‌دار ۵ بسته کیک بفروشد ، چقدر سود می‌کند ؟

ب (چند بسته کیک بفروشد تا ۴۲۰ ریال سود کند ؟

ج (چند بسته کیک بفروشد تا با سود آن بتواند یک بسته کیک بخرد ؟

۲- علیرضا ساعت ۷ صبح به مدرسه می‌رود . او ۶ ساعت در مدرسه درس می‌خواند و بازی می‌کند . او چه ساعتی از

مدرسه به خانه برمی‌گردد ؟ (روی ساعت نشان بده)

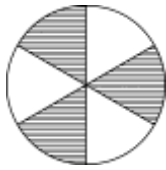


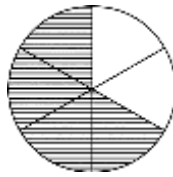
۳- شیوا برای خرید یک کتاب به فروشنده ۳ اسکناس ۳۰۰ ریالی و ۴ اسکناس ۱۰۰۰ ریالی و ۲ اسکناس ۵۰۰ ریالی

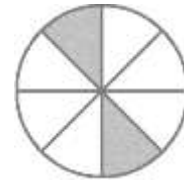
داد. او چند ریال خرید کرده است ؟



۴ - برای هر شکل یک کسر بنویس .







۵ - سپیده و سارا تو پیتزای هم اندازه درست کرده‌اند . سارا $\frac{3}{4}$ و سپیده $\frac{2}{4}$ پیتزای خود را خورده‌اند . با رسم شکل



نشان بده کدام یک پیتزای بیشتری خورده‌اند ؟

۶ - الگو را مانند نمونه ادامه بده .

* ۵ - ۱۰ ، ، ،

* ۶ - ۱۲ ، ، ،

۷ - حاصل ضرب های زیر را با روش (شکل و محور) به دست بیاور .

الف) 7×3

ب) 6×4



۱۳۷۰

باسمه تعالی

موسسه‌ی فرهنگی آموزشی پیوند ادب
پیش دبستان و دبستان (هوشمند) دخترانه پیوندنام و نام خانوادگی :
کلاس : ورودی سوم به چهارم

سوالات گذر از تابستان

۸ - در جای خالی علامت مناسب ($<$ $=$ $>$) بگذار .

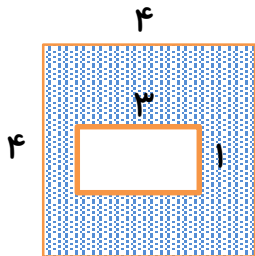
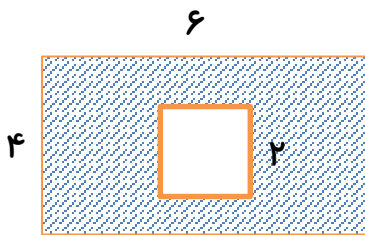
2×6 6×2

2×5 6×3

3×5 5×5

7×1 2×4

۹ - مساحت قسمت هاشور خورده شکل‌های زیر را به دست آورید .



۱۰ - حاصل جمع و تفریح‌ها را به صورت فرایندی به دست آورد .

$$\begin{array}{r} 3659 \\ + 5230 \\ \hline \end{array}$$

$$\begin{array}{r} 9413 \\ - 6235 \\ \hline \end{array}$$





۱- در هر ردیف کدام کلمه با بقیه متفاوت است ؟ دور آن خط بکش .

الف (نانوايي - قنادي - نجاري - عكاس - بنائي

ب) وسايل نقليه - چراغ راهنمائي - پل هوايي - بوستان

۲- معنی کلمه های زیر را بنویس .

الف (اطراف : ب) نگران :

ج (عظمت : د) گسترده :

۳- کامل کن .

من خسته شدم . من و دوستم

تو خسته شدید .

علی بچه ها

۴ - کلمه ی درست را از داخل کلمات انتخاب کن و در جای خالی بنویس .

الف (ما وارد سالن اصلی (شدید - شدیم - شدند)

ب (تصمیم گرفتم در مسابقات استانی شنا (شرکت کنید - شرکت کند - شرکت کنم)

ج (بعضی از آن ها بسیار ماهرانه تمرین (می کردند - می کردید - می کردم)



۱۳۷۰

باسمه تعالی

موسسه‌ی فرهنگی آموزشی پیوند ادب
پیش دبستان و دبستان (هوشمند) دخترانه پیوند

نام و نام خانوادگی :
کلاس : ورودی سوم به چهارم

سوالات گذر از تابستان

۵- هر یک از نشانه‌های نگارشی زیر را در یک جمله به کار ببر .

(.) :

(؟) :

(!) :

۶- جمله‌ی زیر را با استفاده از کلمه‌های داخل کمانک تغییر بده .

الف (امروز در کلاس یک متر کاغذی درست می‌کنیم . (یک ساعت قبل)

.....

۷- با مرتب کردن کلمه‌های در هم ریخته جمله بساز .

* چند - طول می‌کشد - میوه - این - بدهند - درختان - که - سال

.....

۸- جمله‌های زیر را با کلمه‌های (مودبانه - دلیرانه - شجاعانه) کامل کن .

الف (رفتار مریم با دوستش ، رفتاری است .

ب (حرف‌هایی مانند شعر شاعران ، حرف‌های است .

ج (مرز نشینان از مناطق مرزی دفاع کردند .

۹- یک بیت از شعری که در کلاس سوم خواندی و لذت بردی بنویس ؟



۱۰- از زبان یک درخت بنویس ، که از بچه‌ها و خانواده‌هایی که برای تفریح به طبیعت می‌آیند چه انتظاری داری ؟

.....

.....



۱- کار دانش آموزی که درباره یک موضوع از افراد مختلف پرسش می‌کند و اطلاعات به دست آمده را مرتب می‌کند شبیه کاری است که یک برای انجام می‌دهد .

الف (معلم - درس دادن) ب (پزشک - درمان)

ج (معلم ریاضی - حل مسئله) د (دانشمند - جمع آوری اطلاعات)

۲- برای انجام چه کارهایی به غذای سالم و مناسب نیاز داریم ؟

.....

.....

۳- هر یک از مواد زیر را در گروه (جامد - مایع - گاز) طبقه‌بندی کن .

" آب - حباب - صابون - هوا - رنده - لیوان - مایع ظرفشویی - اکسیژن "

جامد :

مایع :

گاز :

۴- جرم را تعریف کنید .

.....



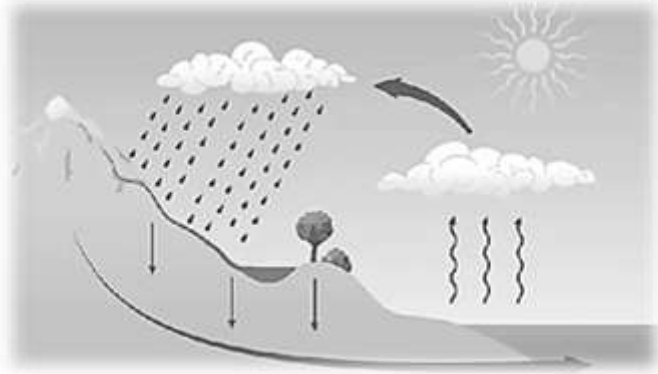
باسمه تعالی

موسسه فرهنگی آموزشی پیوند ادب
پیش دبستان و دبستان (هوشمند) دخترانه پیوند

نام و نام خانوادگی :
کلاس : ورودی سوم به چهارم

سوالات گذر از تابستان

۵ - مراحل مختلف چرخه آب را روی تصویر بنویس ؟



۶ - الف) در کشور ما ایران آب مصرفی بیشتر از طریق تامین می شود .

ب) مقدار جرم مواد را با واحدهای و بیان می کند .

ج) ذوب یعنی تغییر حالت ماده از به که بر اثر گرما است .

۷ - ما چگونه اجسام را می بینیم ؟

۸ - چرا آب دریاها برای کشاورزی و آشامیدن مناسب نیست ؟

۹ - اهرم چیست ؟

۱۰ - نام دو گیاه بنویس که ریشه آنها خوراکی باشند ؟

